

# Grundlagen der Integralrechnung

Wolfgang Kippels

26. Oktober 2018

## Inhaltsverzeichnis

<b>1</b>	<b>Vorwort</b>	<b>2</b>
<b>2</b>	<b>Das unbestimmte Integral</b>	<b>3</b>
<b>3</b>	<b>Das bestimmte Integral</b>	<b>5</b>
<b>4</b>	<b>Beispielaufgaben</b>	<b>8</b>
4.1	Beispielaufgabe 1 . . . . .	8
4.2	Beispielaufgabe 2 . . . . .	10

# 1 Vorwort

Diese und ähnliche Anleitungen zu erstellen erfordert sehr viel Zeit und Mühe. Trotzdem stelle ich alles kostenfrei der Allgemeinheit zur Verfügung. Wenn Sie diese Datei hilfreich finden, dann bitte ich Sie um Erfüllung des nachfolgend beschriebenen „Generationenvertrages“:

*Wenn Sie später einmal Ihre Ausbildungsphase beendet haben und im Beruf stehen (oder auch noch danach), geben Sie bitte Ihr Wissen in geeigneter Form an die nachfolgende Generation weiter.*

Wenn Sie mir eine Freude machen wollen, dann schreiben Sie mir bitte eine kleine Email an die folgende Adresse: [mail@dk4ek.de](mailto:mail@dk4ek.de)

Vielen Dank!

## 2 Das unbestimmte Integral

Am Beispiel eines Polynoms wollen wir das sogenannte **unbestimmte Integral** herleiten. Gegeben sei die Funktion  $f(x)$  sowie deren Ableitung  $f'(x)$ .

$$\begin{aligned}f(x) &= a \cdot x^n \\f'(x) &= a \cdot n \cdot x^{n-1}\end{aligned}$$

Nun stellen wir uns vor, wir kennen nur  $f'(x)$  und fragen uns, von welcher Funktion diese Funktion  $f'(x)$  als Ableitung *abstammen* könnte. Man nennt diese gesuchte Funktion daher auch *Stammfunktion*. Wenn die gegebene Funktion nicht  $f'(x)$ , sondern  $f(x)$  heißt, dann verwendet man für die Stammfunktion die Bezeichnung  $F(x)$ . Damit ist dann:

$$f(x) = F'(x)$$

Kommen wir zurück zum Beispiel. Wenn wir zur Funktion  $f(x) = a \cdot n \cdot x^{n-1}$  die **Stammfunktion**  $F(x)$  suchen, dann könnte die Lösung lauten:  $F(x) = a \cdot x^n$ . Möglich sind aber auch noch nachfolgende **Stammfunktionen**:

$$\begin{aligned}F_1(x) &= a \cdot x^n + 3 \\F_2(x) &= a \cdot x^n + 7 \\F_3(x) &= a \cdot x^n - 19\end{aligned}$$

Da beim Ableiten immer die Konstante (als Summand) wegfällt, ergäbe sich beim Ableiten stets:

$$F'(x) = f(x) = a \cdot n \cdot x^{n-1}$$

Allgemein kann man daher sagen, die Stammfunktion zu  $f(x)$  lautet:

$$f(x) = a \cdot n \cdot x^{n-1} \quad \Rightarrow \quad F(x) = a \cdot x^n + c$$

Hierbei ist  $c$  eine Konstante, die eine beliebige reelle Zahl sein kann.

Kommen wir nun zur Festlegung einiger Begriffe.

Die Umkehrung des *Differenzierens* nennt man **Integrieren**. Da für das *Differenzieren* auch der deutsche Begriff *Ableiten* verwendet wird, kann man umgekehrt zum *Integrieren* auch **Aufleiten** sagen. Dieser Begriff ist zwar nicht allgemein üblich, drückt aber meines Erachtens anschaulich gut die Umkehrung des Ableitens aus. Die Stammfunktion zu einer Funktion  $f(x)$  heißt **unbestimmtes Integral** von  $f(x)$ . „Unbestimmt“, weil die Konstante  $c$  ja nicht bestimmt werden kann. Hierfür wird folgende Schreibweise verwendet:

$$\int f(x) \, dx = F(x) + c$$

Gelesen wird das als **Integral von  $f$  von  $x$   $dx$** . Die genaue Bedeutung des Kürzels  $dx$  soll an dieser Stelle nicht erklärt werden (es stammt vom  $dx$  aus dem *Differenzenquotienten* ab, das das differenziell kleine  $\Delta x$  aus der Steigungsformel darstellt), es reicht an

dieser Stelle, wenn man weiß, dass die Funktion vorn durch das Integralzeichen  $\int$  und hinten durch das Kürzel  $dx$  eingeschlossen wird. In unserem Beispiel sieht das dann so aus:

$$\int \underbrace{a \cdot n \cdot x^{n-1}}_{f(x)} dx = \underbrace{a \cdot x^n + c}_{F(x)}$$

Was bedeutet das? Es gibt zu jeder Funktion  $f(x)$  **eine ganze Schar** von Stammfunktionen, die alle  $f(x)$  als Ableitung haben. Da nicht feststellbar ist, welche davon die „richtige“ ist, spricht man vom **unbestimmten** Integral.

Hier einige Grundintegrale wichtiger grundlegender Funktionen, jedoch ohne dass diese hergeleitet werden:

$$\begin{aligned} \int x^n dx &= \frac{1}{n+1} \cdot x^{n+1} + c \\ \int e^x dx &= e^x + c \\ \int \sin x dx &= -\cos x + c \\ \int \cos x dx &= \sin x + c \\ \int \frac{1}{x} dx &= \ln |x| + c \end{aligned}$$

Darüber hinaus gibt es einige Integrationsregeln, von denen ich hier nur die beiden wichtigsten angeben möchte:

$$\begin{aligned} \int k \cdot f(x) dx &= k \cdot \int f(x) dx \\ \int u(x) \pm v(x) dx &= \int u(x) dx \pm \int v(x) dx \end{aligned}$$

Weitere Integrationsregeln bzw. Integrationsmethoden finden Sie hier:

<http://www.dk4ek.de/lib/exe/fetch.php/int-meth.pdf>

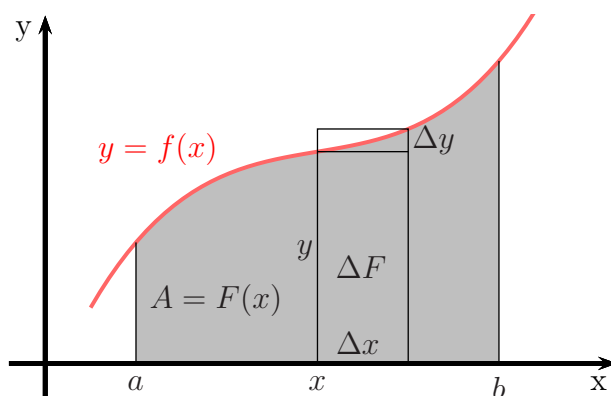
Übungsaufgaben zum Bilden einfacher Stammfunktionen finden Sie hier:

[http://www.dk4ek.de/lib/exe/fetch.php/inte\\_un.pdf](http://www.dk4ek.de/lib/exe/fetch.php/inte_un.pdf)

Eine wichtige Anwendung für Integrale ist die Bestimmung einer krummlinig begrenzten Fläche. Diese wird mit dem **bestimmten Integral** berechnet. Um zu klären, was dahinter steckt, müssen wir etwas weiter ausholen und mit einem scheinbar völlig anderen Problem beginnen.

### 3 Das bestimmte Integral

Die Fläche  $A$  unter dem Funktionsgraphen der Funktion  $f(x)$  soll im Intervall  $[a; b]$  berechnet werden. Nebenstehend ist diese Fläche dargestellt. Links wird sie durch  $x = a$  und rechts durch  $x = b$  begrenzt, die untere Begrenzung ist die Abszisse ( $x$ -Achse) und die obere der Funktionsgraph von  $f(x)$ .



Fläche unter einer Kurve

Gehen wir davon aus, dass die Fläche, die links bei  $a$  beginnt und rechts an der Stelle  $x$  endet (also die linke Teilfläche), natürlich vom rechten Begrenzungswert  $x$  abhängt. Sie stellt also auch eine Funktion von  $x$  dar, die ich  $A = F(x)$  nennen möchte. Man kann sich leicht vorstellen, dass die Fläche kleiner wird, wenn ich  $x$  nach links verschiebe, oder größer, wenn  $x$  nach rechts bewegt wird.

Betrachten wir nun den eingezeichneten Streifen mit der Breite  $\Delta x$ . Wir erhalten einen kurzen Streifen mit der Höhe  $y$  und einen etwas längeren mit der Höhe  $y + \Delta y$ . Die markierte Fläche unter der Kurve in diesem Streifenbereich habe ich  $\Delta F$  genannt, denn um diesen Wert würde ja die Flächenfunktion  $F(x)$  anwachsen, wenn  $x$  um  $\Delta x$  nach rechts verschoben wird. Wie man leicht sieht, ist diese Fläche  $\Delta F$  etwas größer, als der kurze Rechteckstreifen und etwas kleiner, als der längere Rechteckstreifen. Das schreibe ich als Ungleichungskette auf:

$$\underbrace{\Delta x \cdot y}_{\text{kurzer Streifen}} < \Delta F < \underbrace{\Delta x \cdot (y + \Delta y)}_{\text{langer Streifen}}$$

Ich dividiere die ganze Ungleichung durch  $\Delta x$ . Das ist erlaubt, denn  $\Delta x$  ist nicht negativ und auch nicht Null. Ich erhalte:

$$y < \frac{\Delta F}{\Delta x} < y + \Delta y$$

Machen wir nun den Grenzwertübergang, dass  $\Delta x \rightarrow 0$  geht, dann wird  $\frac{\Delta F}{\Delta x}$  zu  $\frac{dF}{dx}$ , was man bekanntlich auch Ableitung  $F'(x)$  nennt. Da mit  $\Delta x \rightarrow 0$  auch  $\Delta y \rightarrow 0$  geht, laufen der linke und der rechte Term in der Ungleichungskette aufeinander zu. Setzt man noch für  $y = f(x)$  ein, dann ergibt sich daraus:

$$\begin{aligned} \frac{dF}{dx} &= y \\ F'(x) &= f(x) \end{aligned}$$

Das bedeutet, dass die Ableitung der Flächenfunktion mit der Funktion, die die obere Begrenzung der Fläche darstellt, übereinstimmt. Macht man die Umkehrung, dann kann man daraus schließen, dass die Flächenfunktion  $F(x)$  das **unbestimmte Integral** der Funktion  $f(x)$  darstellt.

$$A = \int F'(x) dx = \int f(x) dx = F(x) + c$$

Um nun eine **konkrete** Fläche berechnen zu können, müssen wir das  $c$  irgendwie in den Griff bekommen. Wir wollen aus dem **unbestimmten** Integral ein **bestimmtes** Integral machen.

An der Stelle  $a$  muss die Flächenfunktion genau 0 ergeben. Daraus ergibt sich für die Fläche von  $a$  bis  $x$ :

$$\begin{aligned} A(a) &= F(a) + c &= 0 \\ \text{und } A(a; x) &= F(x) + c - (F(a) + c) \end{aligned}$$

Wie man leicht erkennen kann, hebt sich das  $c$  dabei genau auf. Welchen Wert man dafür einsetzt, ist völlig gleichgültig. Aus Bequemlichkeit können wir also auch mit  $c = 0$  weiter rechnen. Für die Fläche in dem Intervall  $[a; b]$  ergibt sich damit:

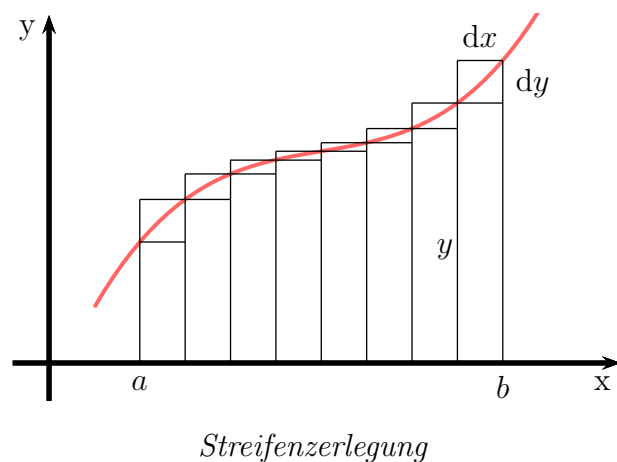
$$A(a; b) = F(b) - F(a)$$

Dieser Zusammenhang wird folgendermaßen geschrieben:

$$A(a; b) = F(b) - F(a) = \int_a^b f(x) dx$$

Der Term  $\int_a^b f(x) dx$  heißt: **Das bestimmte Integral** von  $f(x)$  in den Grenzen von  $a$  bis  $b$ .

Zum Schluss möchte ich noch zeigen, woher die Symbole stammen. Dazu zerlege ich die oben angesprochene Fläche in  $n$  Streifen, so dass  $n$  Rechteckstreifen **unter** und  $n$  Rechteckstreifen **über** dem Funktionsgraphen enden. Für  $n \rightarrow \infty$  geht die Differenz der beiden Rechtecksummen gegen 0. Dann ist die Fläche der oberen Rechtecksumme gleich der Fläche der unteren Rechtecksumme gleich der Fläche unter dem Funktionsgraphen. Zusammengefasst ist  $A$  gleich der Summe der  $n$  Rechtecke von  $x = a$  bis  $x = b$ .



$$A = \sum_{x=a}^b y \cdot dx = \sum_{x=a}^b f(x) \cdot dx$$

Für  $n \rightarrow \infty$  bzw.  $dx \rightarrow 0$  werden die Rechtecke zum „ $y$ -Strich“; die Summe aller Rechtecke ist gleich der Summe aller  $y$ -Werte von  $a$  bis  $b$ . Das Summenzeichen  $\sum_{x=a}^b$  wird beim Grenzwertübergang zum Integralzeichen  $\int_a^b$ , das  $dx$  bleibt erhalten.

Hier noch einmal zusammengefasst die Formel für die Berechnung der Fläche in den Grenzen von  $a$  bis  $b$ :

$$A(a; b) = \int_a^b f(x) dx$$

Auch dies wollen wir uns näher ansehen.

Wir haben gesehen, dass wir die Fläche, die **links** durch  $x = a$ , **rechts** durch  $x = b$ , **unten** durch die Abszisse ( $x$ -Achse) und **oben** durch den Graphen der Funktion  $f(x)$  begrenzt ist, berechnen können durch den Ansatz:  $A = \int_a^b f(x) dx$ . Ausgerechnet wird das dann durch:

$$A = \int_a^b f(x) dx = F(b) - F(a)$$

wobei  $F(x)$  eine **beliebige** Stammfunktion von  $f(x)$  ist.

Damit man die Stammfunktion und auch die Grenzen bequem hinschreiben kann, wird noch eine weitere Schreibweise eingeführt. In dem Augenblick, wo die Stammfunktion aufgeschrieben wird, verwandelt sich das Integralzeichen mit dem abschließenden  $dx$  in einen Satz eckige Klammern, wobei die Grenzen an der zweiten Klammer oben und unten angeschrieben werden, etwa so:  $\int_a^b f(x) dx = [F(x)]_a^b = F(b) - F(a)$ .

In einem Zahlenbeispiel sieht das dann so aus:

$$\int_2^5 3x^2 - 4x + 5 dx = [x^3 - 2x^2 + 5x]_2^5 = (5^3 - 2 \cdot 5^2 + 5 \cdot 5) - (2^3 - 2 \cdot 2^2 + 5 \cdot 2) = \dots$$

Es folgen zwei durchgerechnete komplette Beispiele.

## 4 Beispielaufgaben

### 4.1 Beispielaufgabe 1

Berechnen Sie die Fläche, die durch den Graphen der Funktion

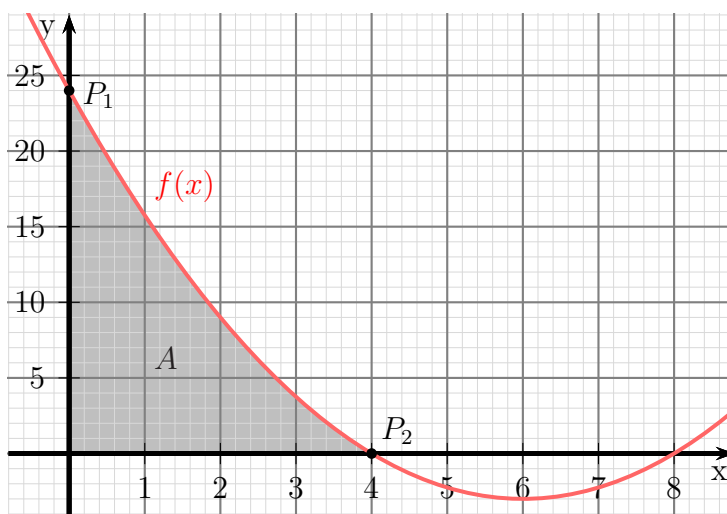
$$f(x) = \frac{3}{4}x^2 - 9x + 24$$

sowie die Ordinate ( $y$ -Achse) und die Abszisse ( $x$ -Achse) begrenzt ist. Fertigen Sie eine Skizze an!

**Lösung:**

#### Schritt 1: Nullstellenbestimmung

Zunächst müssen die Schnittpunkte des Funktionsgraphen mit der Abszisse ( $x$ -Achse) berechnet werden. Dazu wird die Funktion gleich Null gesetzt.



$$\begin{aligned} f(x_0) &= 0 \\ \frac{3}{4}x_0^2 - 9x_0 + 24 &= 0 \quad | \cdot \frac{4}{3} \\ x_0^2 - 12x_0 + 32 &= 0 \\ x_{01/2} &= 6 \pm \sqrt{36 - 32} \\ x_{01/2} &= 6 \pm 2 \\ x_{01} &= 4 \quad x_{02} = 8 \end{aligned}$$



## Schritt 2: Flächenberechnung

Die Skizze zeigt, dass für die gesuchte Fläche die Nullstelle von Belang ist, die **dichter an der Ordinate** ( $y$ -Achse) liegt, also hier  $x_{01} = 4$ . Die untere Grenze ist dann die Ordinate, die bei  $x = 0$  liegt. Die Integrationsgrenzen sind damit 0 und 4.

Im untersuchten Bereich liegt  **$f$  oberhalb der Abszisse**, darum ist das Integral positiv anzusetzen.

$$\begin{aligned} A &= \int_{x_1}^{x_2} f(x) \, dx \\ &\quad \underbrace{\hspace{10em}}_{\text{allgem. Ansatz}} \\ &= \int_0^4 \underbrace{\frac{3}{4}x^2 - 9x + 24}_{\text{konkrete Funktion}} \, dx \\ &= \left[ \underbrace{\frac{1}{4}x^3 - \frac{9}{2}x^2 + 24x}_{\text{Stammfunktion}} \right]_0^4 \\ &= \underbrace{\left( \frac{1}{4} \cdot 4^3 - \frac{9}{2} \cdot 4^2 + 24 \cdot 4 \right)}_{\text{obere Grenze eingesetzt}} - \underbrace{\left( \frac{1}{4} \cdot 0^3 - \frac{9}{2} \cdot 0^2 + 24 \cdot 0 \right)}_{\text{untere Grenze eingesetzt}} \\ A &= 40 \end{aligned}$$

Die gesuchte Fläche beträgt:  **$A = 40$  Flächeneinheiten**

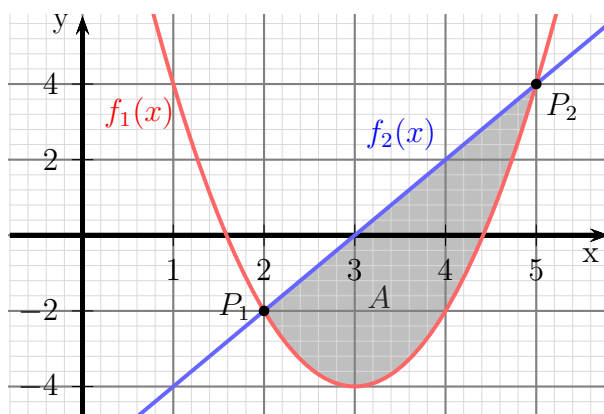
## 4.2 Beispielaufgabe 2

Gegeben sind die Funktionen mit den Funktionsgleichungen:

$$f_1(x) = 2x^2 - 12x + 14 \quad \text{und} \quad f_2(x) = 2x - 6$$

Berechnen Sie die Fläche zwischen den beiden Funktionsgraphen. Skizzieren Sie die zu berechnende Fläche!

**Lösung:** Zunächst müssen die Schnittpunkte der beiden Funktionsgraphen berechnet werden. Dazu werden die Funktionssterme gleichgesetzt:



$$\begin{aligned} f_1(x_s) &= f_2(x_s) \\ 2x_s^2 - 12x_s + 14 &= 2x_s - 6 \quad | -2x_s + 6 \\ 2x_s^2 - 14x_s + 20 &= 0 \quad | :2 \\ x_s^2 - 7x_s + 10 &= 0 \\ x_{s1/2} &= \frac{7}{2} \pm \sqrt{\frac{49}{4} - \frac{40}{4}} \\ x_{s1/2} &= \frac{7}{2} \pm \frac{3}{2} \\ x_{s1} &= 2 \quad x_{s2} = 5 \end{aligned}$$

Mit diesen beiden Schnittstellen kann nun der Ansatz für die Flächenberechnung gemacht werden. Die folgende Formel kann dafür verwendet werden:

$$A = \int_{x_1}^{x_2} f_2(x) - f_1(x) \, dx$$

Hierbei ist zu beachten, dass

- die untere Integrationsgrenze unten ans Integralzeichen und die obere oben ans Integralzeichen gesetzt wird.
- die **untere** Funktion von der **oberen** subtrahiert wird.

In diesem Beispiel stimmen die Indizes zufällig schon. Wir können die Werte also so einsetzen, wie sie sind.

$$\begin{aligned}
 A &= \int_{x_1}^{x_2} \overbrace{f_2(x)}^{\text{obere}} - \overbrace{f_1(x)}^{\text{untere}} \, dx \\
 &\quad \underbrace{\hspace{10em}}_{\text{allgemeiner Ansatz}} \\
 &= \int_2^5 (2x - 6) - (2x^2 - 12x + 14) \, dx \\
 &\quad \underbrace{\hspace{10em}}_{\text{konkrete Funktionen und Grenzen}} \\
 &= \int_2^5 2x - 6 - 2x^2 + 12x - 14 \, dx \\
 &= \int_2^5 \underbrace{-2x^2 + 14x - 20}_{\text{Zusammenfassung}} \, dx \\
 &= \left[ \underbrace{-\frac{2}{3}x^3 + 7x^2 - 20x}_{\text{Stammfunktion}} \right]_2^5 \\
 &= \underbrace{\left( -\frac{2 \cdot 5^3}{3} + 7 \cdot 5^2 - 20 \cdot 5 \right)}_{\text{obere Grenze eingesetzt}} - \underbrace{\left( -\frac{2 \cdot 2^3}{3} + 7 \cdot 2^2 - 20 \cdot 2 \right)}_{\text{untere Grenzen einsetzt}} \\
 A &= 9
 \end{aligned}$$

Die gesuchte Fläche beträgt:  $A = 9$  Flächeneinheiten

Übungsaufgaben (mit Lösungen) zu Flächenberechnung mit dem Bestimmten Integral finden Sie hier:

<http://www.dk4ek.de/lib/exe/fetch.php/integr1.pdf>